

三角形と角 1

月 日

名前

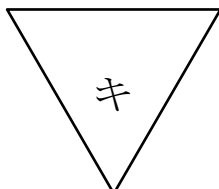
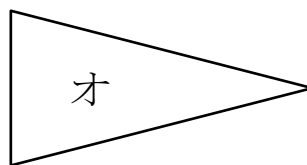
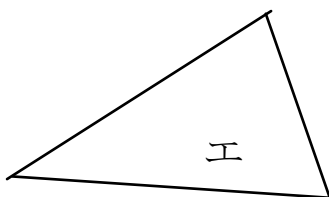
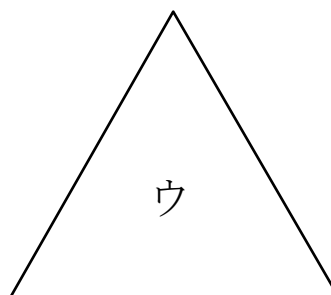
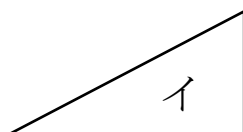
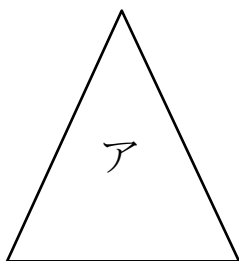
点

1 □にあてはまることばを書きましょう。

① 2つのへんの長さが同じ三角形を
 といいます。

② 3つのへんの長さが同じ三角形を
 といいます。

2 下の三角形の中で、二等辺三角形と正三角形を
 みつけましょう。



二等辺三角形

正三角形

答え

- 1 ① 二等辺三角形
② 正三角形

- 2 二等辺三角形 ア, オ, カ
正三角形 ウ, キ