

分数2

NO 2

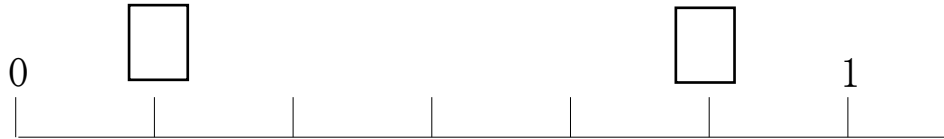
月 日

名前

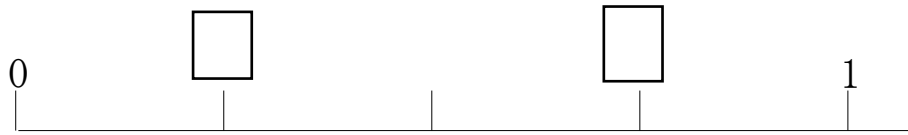
点

1 □にあてはまる分数をかきましょう。


①



②



③



2 次の□にあてはまる数を書きなさい。

①

$\frac{5}{6}$ は $\frac{1}{6}$ を □ つ集めた数です。

②

□ を 4 つ集めた数は $\frac{4}{7}$ です。

③

$\frac{1}{9}$ が □ こぶんで、1 になります。

④

$\frac{7}{7}$ m は、ちょうど □ m になります。

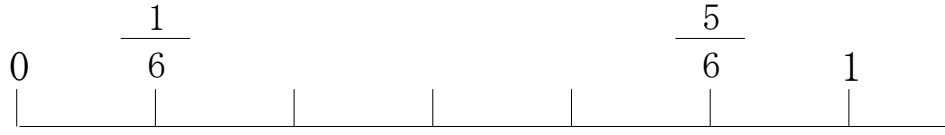
⑤

1dℓ を 8 にわけた1つ分は □ dℓ になります。

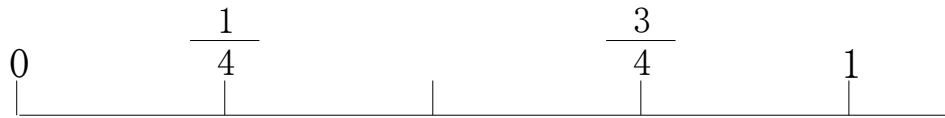
答え

1

①



②



③



2

① 5

② $\frac{1}{7}$

③ 9

④ 1

⑤ $\frac{1}{8}$