

# 分数1

NO 2


月 日

名前

点


1 次の水のかさを分数を使って表しましょう。

①




L

②



L

③

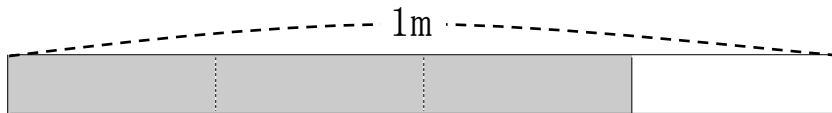


L

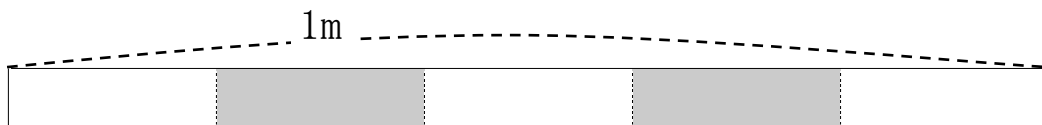
2 色をぬった長さは、何mといえましょうか。

分数か整数で答えましょう。

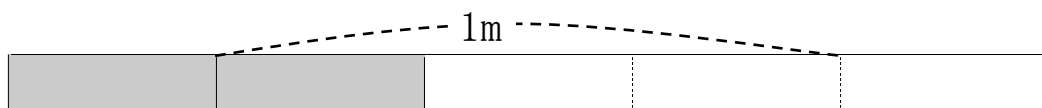
①



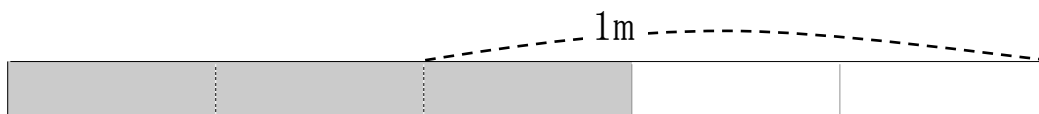
②



③



④



答え

1 ①  $\frac{2}{4}$       ②  $\frac{5}{8}$       ③  $\frac{3}{10}$

2 ①  $\frac{1}{4}$       ②  $\frac{2}{5}$       ③  $\frac{2}{3}$       ④ 1