

# 分数1

NO


月 日

名前

点

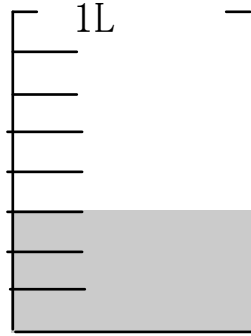
1 次の水のかさを分数を使って表しましょう。

①




L

②



L

③

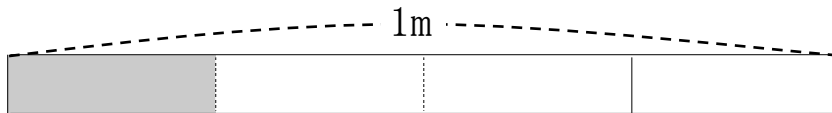


L

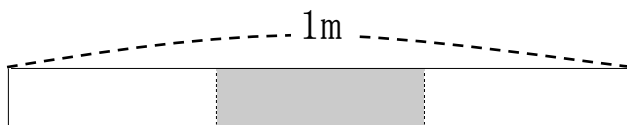
2 色をぬった長さは、何mといえよいでしょうか。

分数か整数で答えましょう。

①



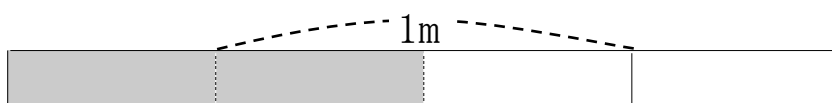
②



③



④



答え

1 ①  $\frac{1}{4}$       ②  $\frac{3}{8}$       ③  $\frac{4}{10}$

2 ①  $\frac{1}{4}$       ②  $\frac{1}{3}$       ③  $\frac{3}{4}$       ④ 1