

# 分けた 大きさの あらわし方2

NO 2

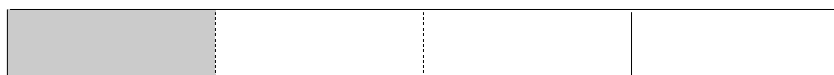
月 日

名前


点

1 色をぬったところは、テープぜんたいの何分の一の大きさですか。分数で答えましょう。

①




②




③




④





2 つぎのテープの  $\frac{1}{2}$  の大きさに色をぬりましょう。

①



②




3 つぎの大きさに色をぬりましょう。

①  $\frac{1}{4}$



②  $\frac{2}{5}$



答え

1 ①  $\frac{1}{4}$       ②  $\frac{2}{4}$       ③  $\frac{3}{5}$       ④  $\frac{1}{3}$

2



3

