

長方形と正方形1

月 日

名前

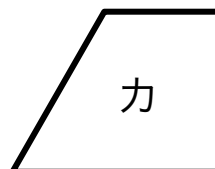

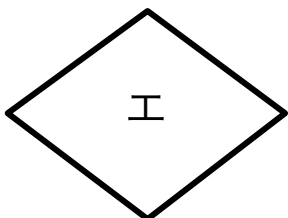
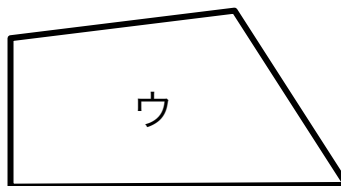
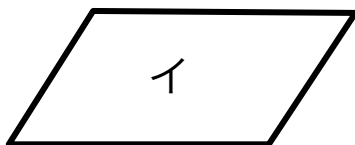

点

1 □に数やことばを書きましょう。

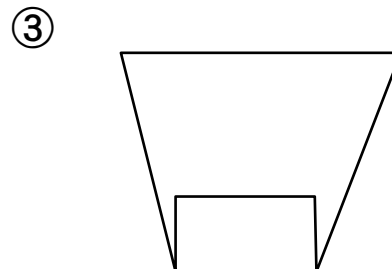
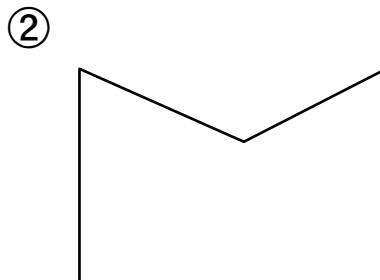
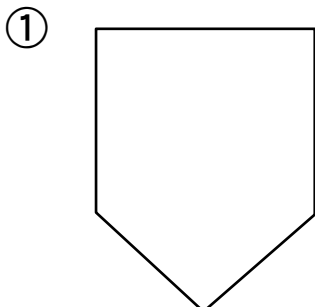
① 4つのかどがみんな直角になっている四角形を
□とといいます。

② 長方形のむかいあっているへんの長さは
です。

2 長方形はどれですか。



3 つぎの形に直線を1本かいて、長方形をつくりましょう。



答え

1

① 長方形

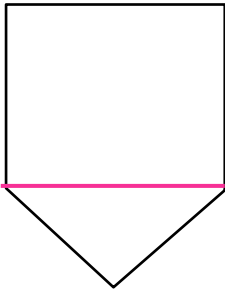
② おなじ

2

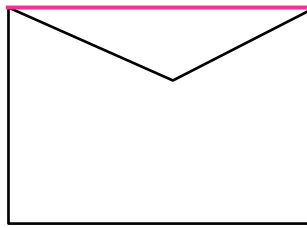
ア、オ

3

①



②



③

