

# 直角1

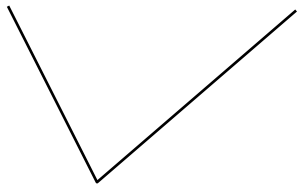
月 日

名前

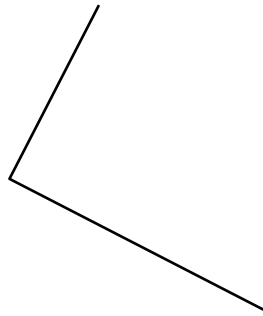
点

1 かどの形が直角になっているものはどれですか。

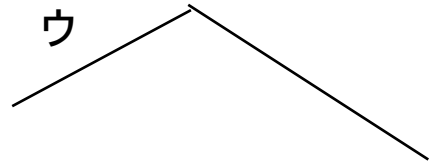
ア



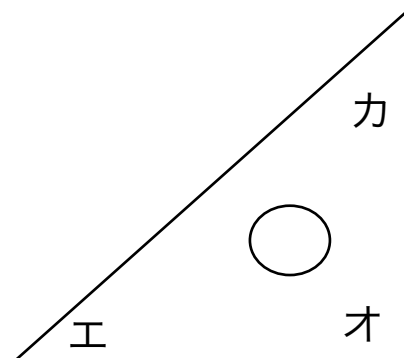
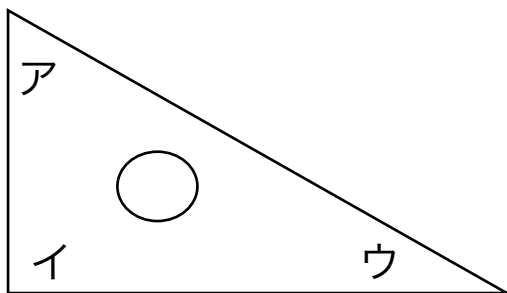
イ



ウ

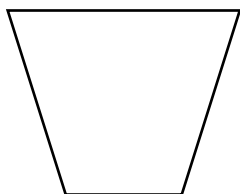


2 三角じょうぎのかどの形が直角になっているところを2つ選びましょう。

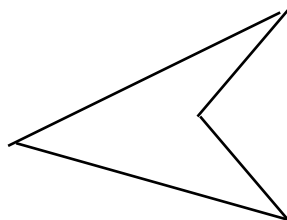


3 下の形の中で直角をもつものはどれですか。

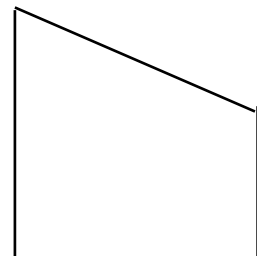
ア



イ



ウ



答え

1 イ

2 イ , オ

3 ウ