

時こくと時間 午前と午後1

NO 2

_____ 月 _____ 日

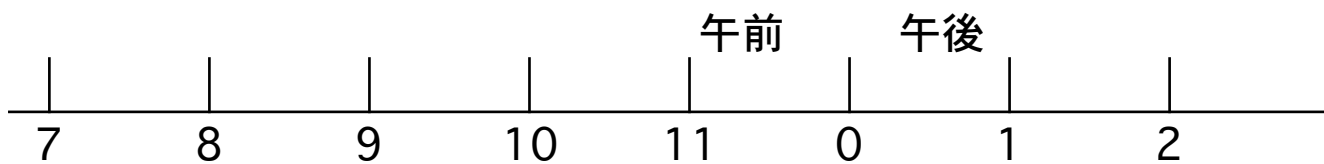
名前	
----	--

 _____ 点

◆次の問いに答えましょう。

① 午前 8 時 から 午後 1 時 までの時間をもとめましょう。

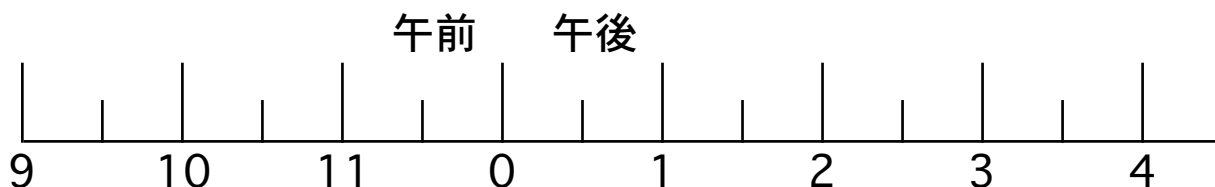
*下の図に線をひいて考えましょう。



--

② 午前 9 時 30 分 から 午後 4 時 までの時間をもとめ
ましょう。

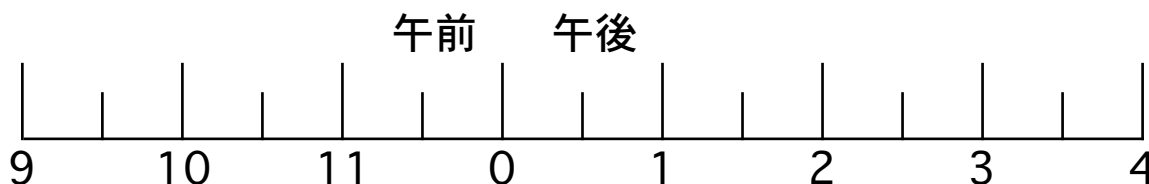
*下の図に線をひいて考えましょう。



--

③ 午前 9 時 30 分から 6 時間 たった時こくをもとめましょう。

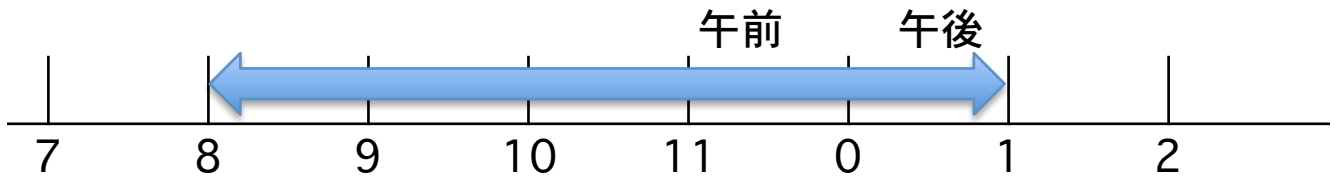
*下の図に線をひいて考えましょう。



--

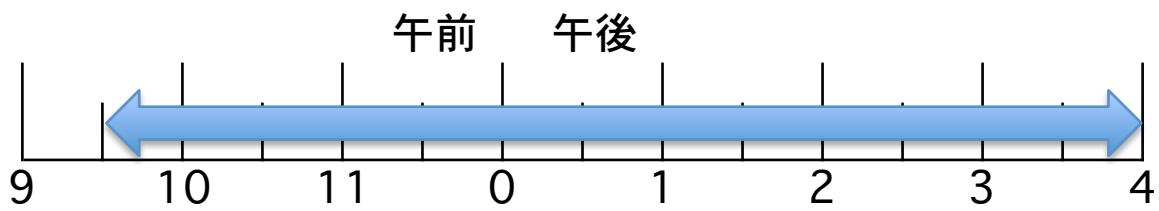
答え

①



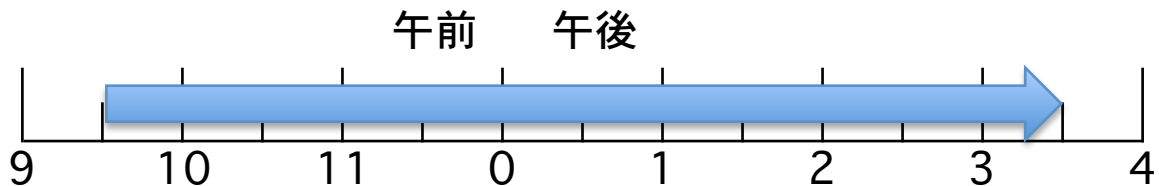
5 時間

②



6 時間 30 分

③



午後 3 時 30 分