

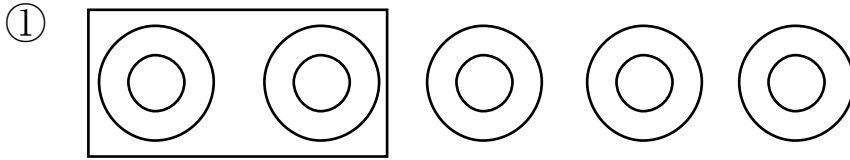
0のけいさん 2

2

がつ にち

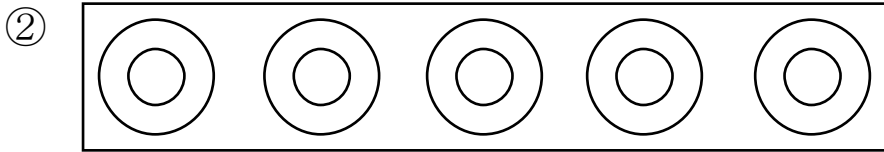
なまえ

1 ドーナツが 5 こあります。
 □のなかに かずを かきましょう。



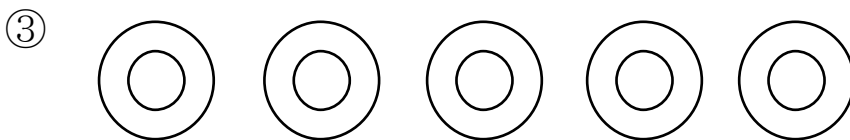
2こたべると のこりは

$$5 - \square = \square$$



5こたべると のこりは

$$5 - \square = \square$$



1こも食べない のこりは

$$5 - \square = \square$$

こたえ

① $5 - \boxed{2} = \boxed{3}$
 $\boxed{3}$ 正

② $5 - \boxed{5} = \boxed{0}$
 $\boxed{0}$ 正

③ $\boxed{5} - \boxed{0} = \boxed{5}$
 $\boxed{5}$ 正