

なんじなんぷん2

NO 1

_____ 月 _____ 日

名前	
----	--

 _____ 点

◆ とけいのはりを図にかきましょう。

① 3 時

② 8 時



③ 4 時 30 分

④ 9 時 30 分



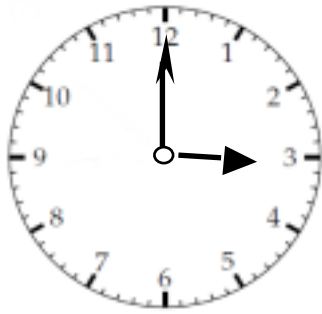
⑤ 1 時 45 分

⑥ 7 時 15 分

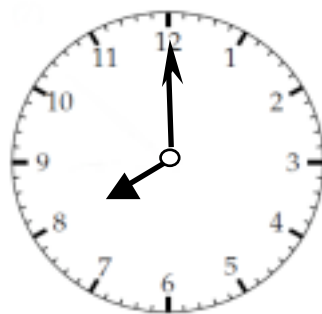


こたえ

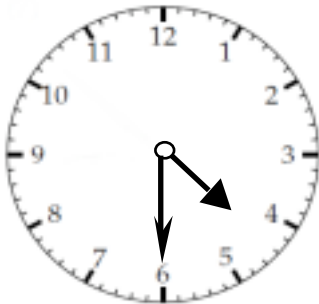
①



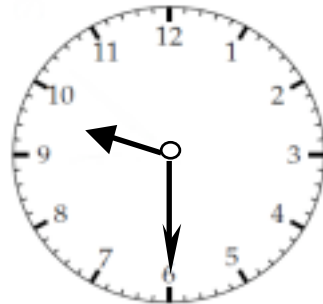
②



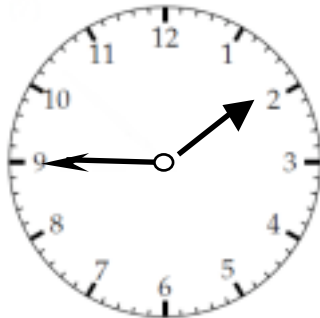
③



④



⑤



⑥

