

たし算とひき算1-1

月

日

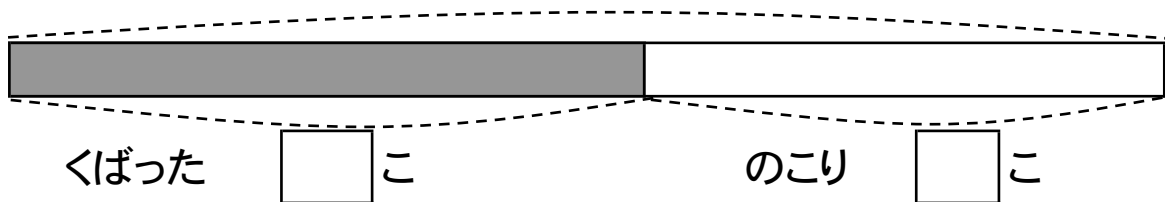
名前

点

1 あめが 何こか あります。 17 こくばったので、
 のこりが 14 こになりました。あめは、はじめ 何こ
 ありましたか。

① □のなかに数を書きましょう。

はじめ () こ



② しきを書いて答えをもとめましょう。

しき

ひっ算

答え

2 色紙が 何まいか あります。 11 まいつかったので、
 のこりが 13 まいになりました。色紙は、はじめ 何まい
 ありましたか。

図

しき

ひっ算

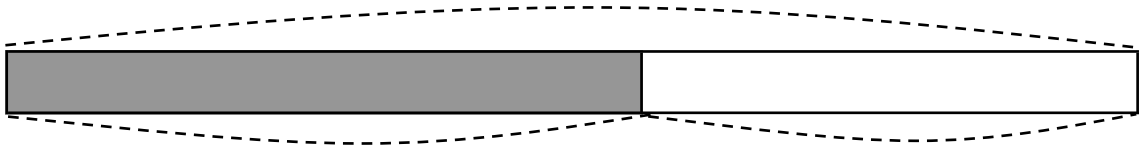
答え

答え

1

①

はじめ () こ



くばった 17 こ

のこり 14 こ

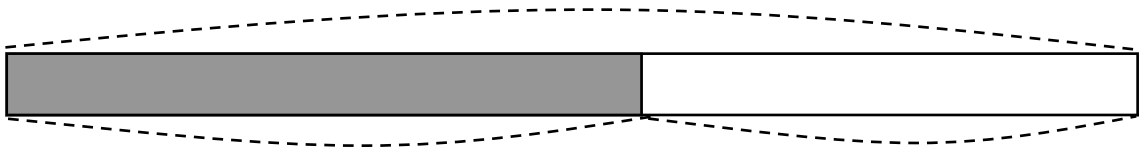
②

17 + 14 = 31

答え 31 こ

2

はじめ () まい



つかった 11 まい

のこり 13 まい

11 + 13 = 24

答え 24 まい