

# たし算とひき算 2-2

月 日

名前

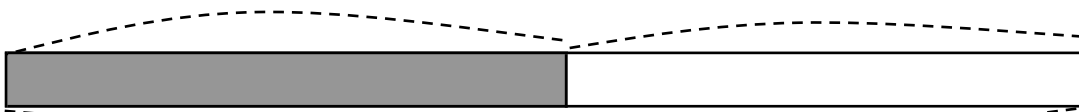
点

1 りんごが 何こか あります。 15 こ 買って きたので、  
 ぜんぶで 31 こ になりました。りんごは、はじめ 何こ  
 ありましたか。

① □のなかに 数を書きましょう。

はじめ ( ) こ

買った □ こ



ぜんぶ □ こ

② しきを書いて 答えをもとめましょう。


しき

ひっ算

答え

2 子どもが 18 人 あそんで いました。 そこへ、何人か  
 きたので、 ぜんぶで 22 人 になりました。  
 あとから きた 子どもは、何人 ですか。

図



しき

ひっ算

答え

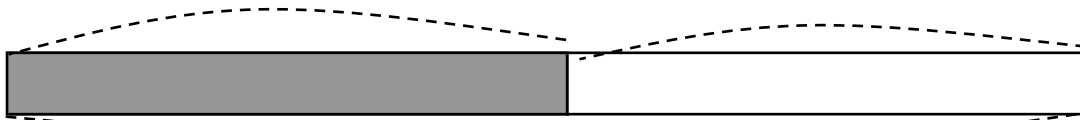
答え

1

①

はじめ ( ) こ

買った 15 こ



ぜんぶ 31 こ

②

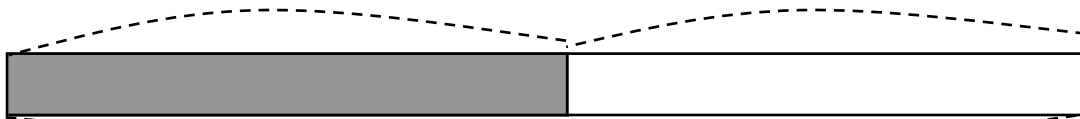
$31 - 15 = 16$

答え 16 こ

2

はじめ 18 人

きた ( ) 人



ぜんぶ 22 人

$22 - 18 = 4$

答え 4 人