

たし算とひき算 2-1

月 日

名前

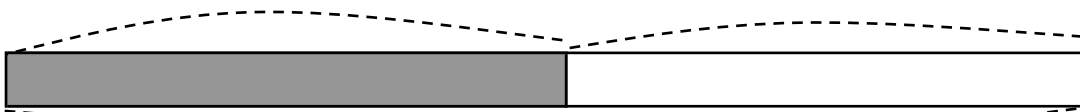
点

1 りんごが 何こか あります。 13 こ 買って きたので、
 ぜんぶで 29 こ になりました。りんごは、はじめ 何こ
 ありましたか。

① □のなかに 数を書きましょう。

はじめ () こ

買った □ こ



ぜんぶ □ こ

② しきを書いて 答えをもとめましょう。


しき

ひっ算

答え

2 子どもが 18 人 あそんで いました。 そこへ、何人か
 きたので、 ぜんぶで 25 人 になりました。
 あとから きた 子どもは、何人 ですか。

図



しき

ひっ算

答え

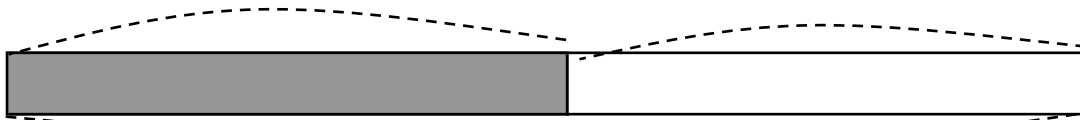
答え

1

①

はじめ () こ

買った 13 こ



ぜんぶ 29 こ

②

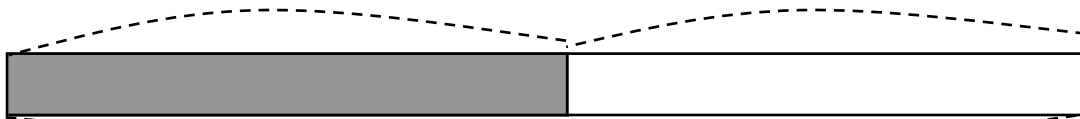
$29 - 13 = 16$

答え 16 こ

2

はじめ 18 人

きた () 人



ぜんぶ 25 人

$25 - 18 = 7$

答え 7 人