

時こくと時間 もとめ方1

月 日

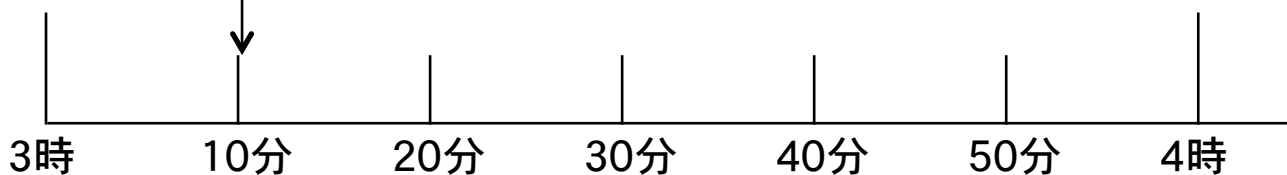
名前	
----	--

 点

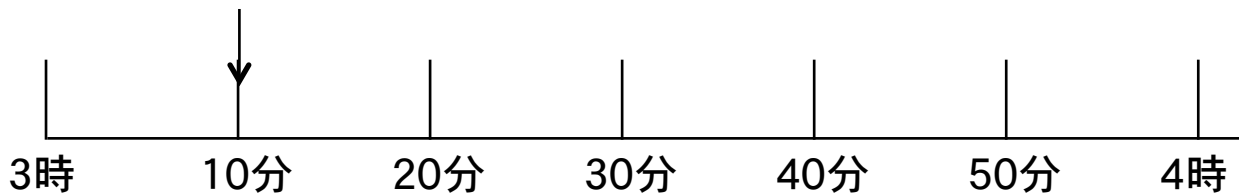
◆ つぎの時こくをもとめましょう。

① 3 時 10 分から 30 分後の時こく

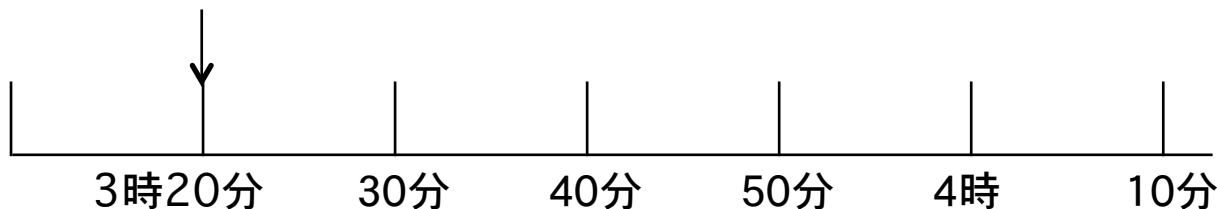
ここから 30 分後まで線を引きましょう。



② 3 時 10 分から 50 分後の時こく



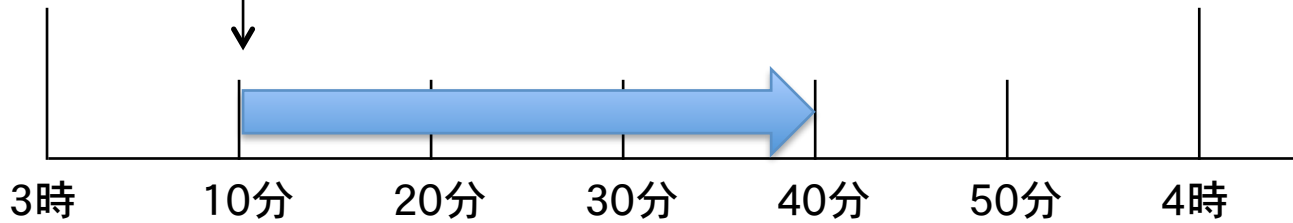
③ 3 時 20 分から 50 分後の時こく



答え

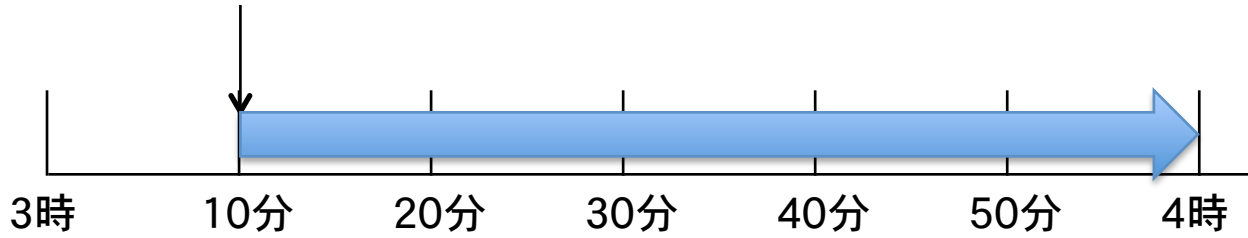
① 3 時 10 分から 30 分後の時ごとをもとめます。

ここから 30 分後まで線を引きましょう。



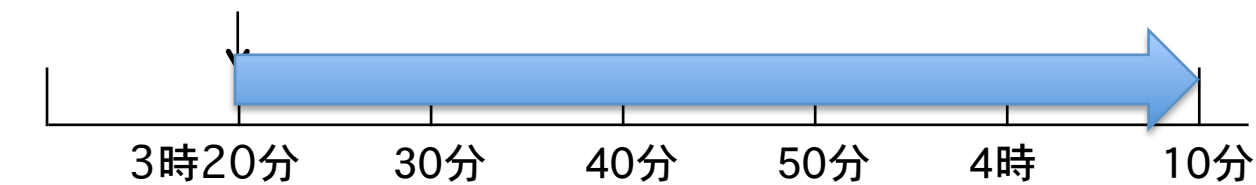
3 時 40 分

② 3 時 10 分から 50 分後の時ごと



4 時

③ 3 時 20 分から 50 分後の時ごと



4 時 10 分

