

# 時こくと時間 もとめ方4

月 日 

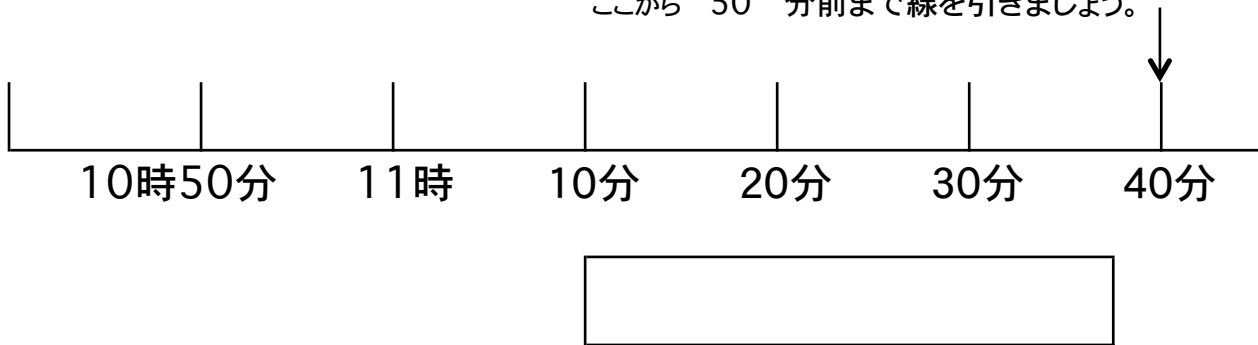
名前
----

 点

◆ つぎの時こくをもとめましょう。

① 11 時 40 分から 50 分前の時こく

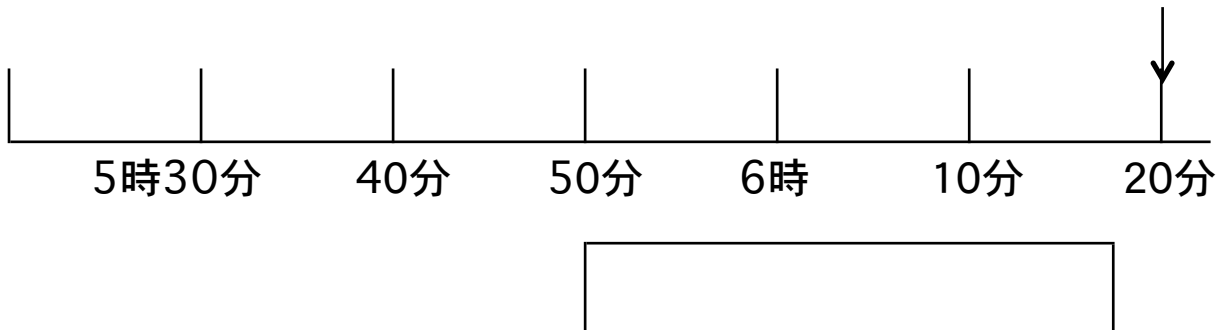
ここから 50 分前まで線を引きましょう。



② 11 時 20 分から 40 分前の時こく



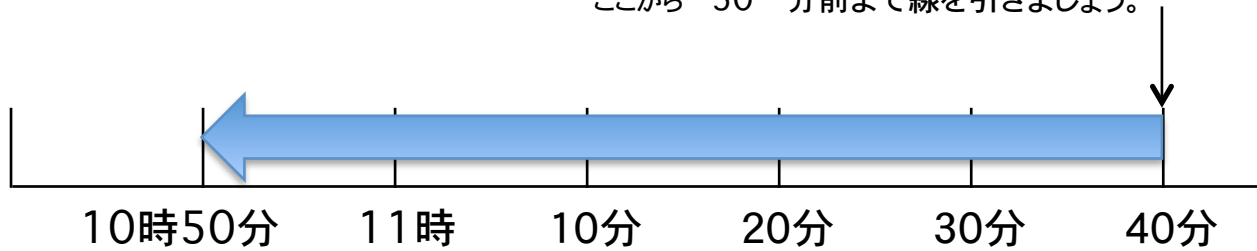
③ 6 時 20 分から 30 分前の時こく



答え

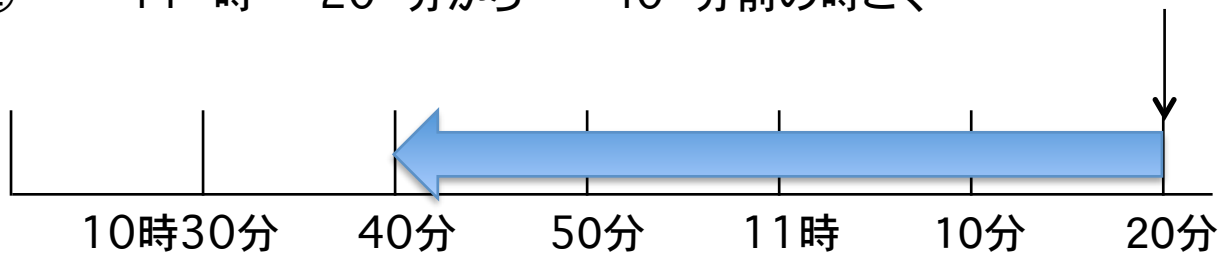
① 11 時 40 分から 50 分前の時ごと

ここから 50 分前まで線を引きましょう。



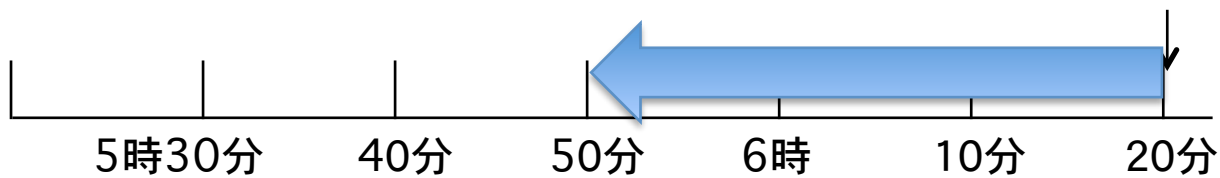
10 時 50 分

② 11 時 20 分から 40 分前の時ごと



10 時 40 分

③ 6 時 20 分から 30 分前の時ごと



5 時 50 分