

# 水のかさ2

NO 3


月 日

名前

点

◆ 右のますは10ますです。  
それぞれの水のかさをもとめましょう。

10



①

10

10

10

10


10



10

10


10




0


②

10



③

10




dl

dl

④

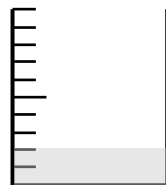
10

10

10

10

10




0

dl

答え

① 80                      ② 4d0                      ③ 8d0

④ 4 0 2 d0