

水のかさ1






NO 1

月 日

名前

点

1 かさののたんいを書きましょう。



2 □にあてはまことばやたんいを書きましょう。

小さな水のかさをはかるには、1デシリットルのたんいを使います。

1デシリットルは 1 □と書きます。




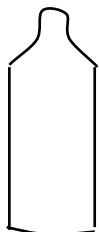
大きな水のかさをはかるには、1リットルのますを使います。

1リットルは、 1 □と書きます。 1ℓのますには、1dlのますで


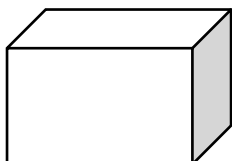
□ ぱいぶんの水が入ります。

3 入っている水のかさを答えましょう。

① びんの中に 1dl ます 5 つぶん入っている。



② 水そうの中に 1ℓ ます 4 つぶん入っている。



答え

2

小さな水のかさをはかるには、1デシリットルのたんいを使います。

1デシリットルは 1 と書きます。

大きな水のかさをはかるには、1リットルのますを使います。

1リットルは、 1 と書きます。 1lのますには、1dlのますで

ばいぶんの水が入ります。

3

①

5dl

②

4l