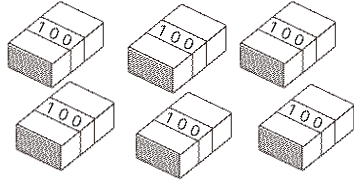


100より大きい数1

No. 2

年 組 名前

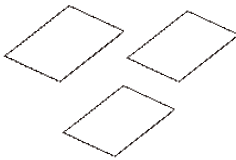
1 がようし画用紙がたくさんあります。□の中に数を
書きましょう。



100のたばが
□ つ (百のくらい)



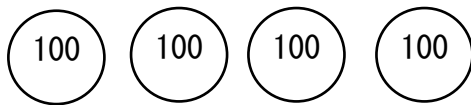
10のたばが
□ つ (十のくらい)




1まいのがようしが
□ つ (一のくらい)

あわせて □ □ □


2 お金をかぞえて □の中に数を書きましょう。




100円玉が
□ つ



10円玉が
□ つ



1円玉が
□ つ



あわせて □ □ □