

長方形と正方形 2

月

日

名前

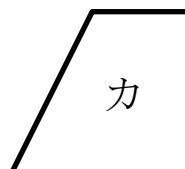

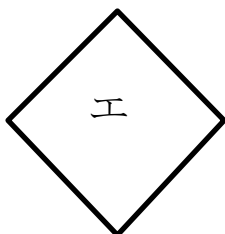
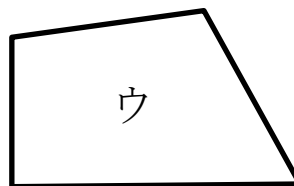
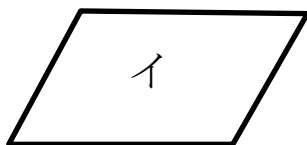

点

1 □に数やことばを書きましょう。

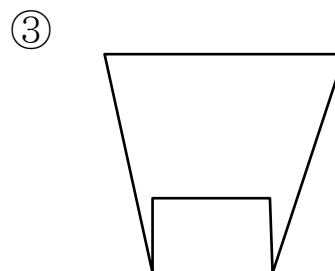
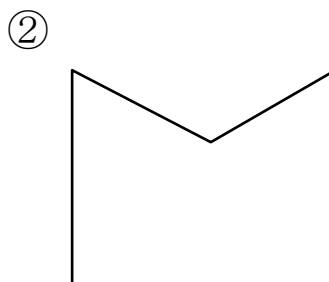
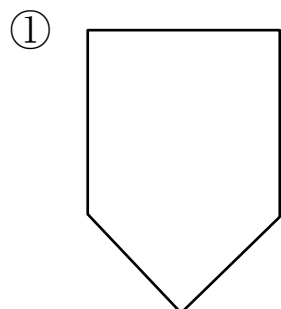
① 4つのかどがみんな直角になっている四角形を といいます。

② 長方形の むかいあっている へんの長さは です。

2 長方形はどれですか。



3 つぎの 形に 直線を 1本 かいて、長方形を つくりましょう。



答え

1 ① 長方形 ② おなじ

2 ア、オ

