

ばいと かけ算2



NO 2

月 日

名前

点

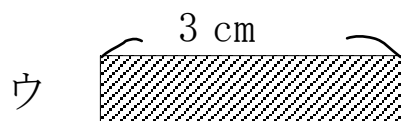
- ① アの テープの長さは 3 cmです。イのテープの長さは
アのテープの長さの 5 ばいの長さです。
イのテープの長さは何cmですか。



しき

答え

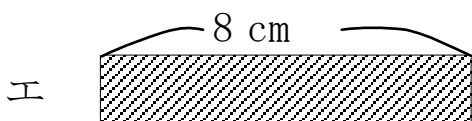
- ② ウの テープの 5 ばいの 長さを もとめましょう。



しき

答え

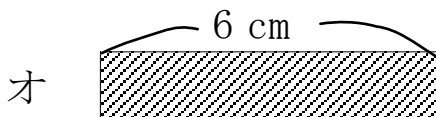
- ③ エの テープの 8 ばいの 長さを もとめましょう。



しき

答え

- ④ オの テープの 5 ばいの 長さを もとめましょう。



しき

答え

こたえ

$$\textcircled{1} \quad 3 \times 5 = 15 \qquad 15 \text{ cm}$$

$$\textcircled{2} \quad 3 \times 5 = 15 \qquad 15 \text{ cm}$$

$$\textcircled{3} \quad 8 \times 8 = 64 \qquad 64 \text{ cm}$$

$$\textcircled{4} \quad 6 \times 5 = 30 \qquad 30 \text{ cm}$$