

ばいと かけ算2



NO 1

月 日

名前

点

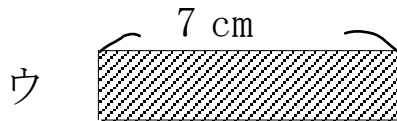
- ① アの テープの長さは 4 cmです。イのテープの長さは
 アのテープの長さの 5 ばいの長さです。
 イのテープの長さは何cmですか。



しき

答え

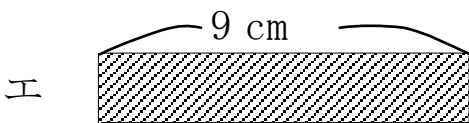
- ② ウの テープの 5 ばいの 長さを もとめましょう。



しき

答え

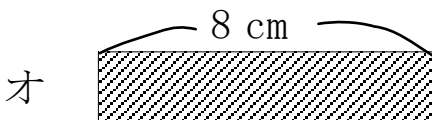
- ③ エの テープの 9 ばいの 長さを もとめましょう。



しき

答え

- ④ オの テープの 6 ばいの 長さを もとめましょう。



しき

答え

こたえ

$$\textcircled{1} \quad 4 \times 5 = 20 \quad 20 \text{ cm}$$

$$\textcircled{2} \quad 7 \times 5 = 35 \quad 35 \text{ cm}$$

$$\textcircled{3} \quad 9 \times 9 = 81 \quad 81 \text{ cm}$$

$$\textcircled{4} \quad 8 \times 6 = 48 \quad 48 \text{ cm}$$