


ばいと かけ算1


NO 2

月	日	名前		点
---	---	----	--	---

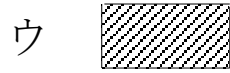
- ① アの テープの 2 つぶんの 長さに, 色を めり
 しましょう。





- ② イの テープの 3 つぶんの 長さに, 色を めり
 しましょう。




- ③ ウの テープの 7 つぶんの 長さに, 色を めり
 しましょう。




- ④ エの テープの 4ばいの 長さの テープは,
 ①~③のうち どれですか。



① 

② 

③ 

答え