


# ばいと かけ算1


NO 1

月	日	名前		点
---	---	----	--	---

① アの テープの 4 つぶんの 長さに, 色を めり  
 しましょう。




② イの テープの 3 つぶんの 長さに, 色を めり  
 しましょう。



③ ウの テープの 5 つぶんの 長さに, 色を めり  
 しましょう。



④ エの テープの 4ばいの 長さの テープは,  
 ①~③のうち どれですか。



①

②

③

答え