

100より大きい数 6

No. 2

年 組 名前 _____

1 □にあてはまる 数を 書きましょう。

① 100を 4 こ, 10を 8 こ, 1を 3 こ あわせた 数は,
□です。

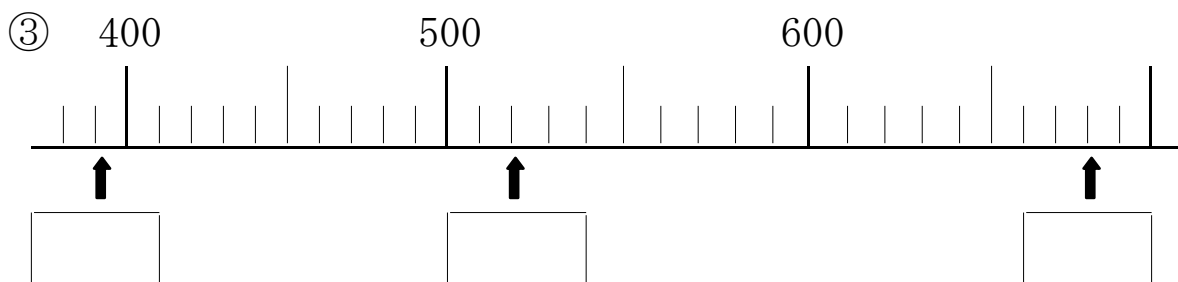
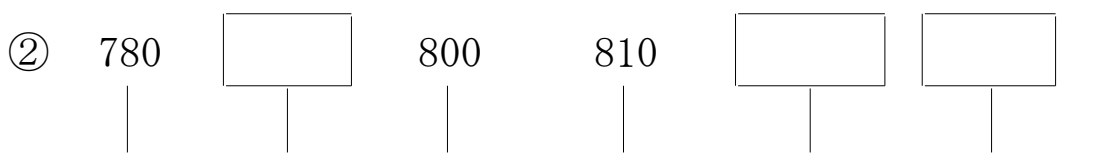
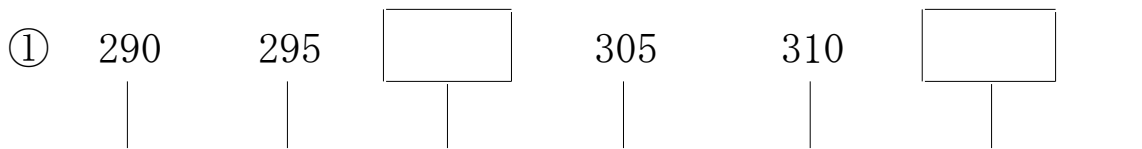
② 100を 8 こ, 1を 8 こ あわせた 数は, □です。

③ 10を 63 こ あつめた 数は, □です。

④ 950 は 1000 より □小さい数です。

⑤ 1000 より 10 小さい 数は, □です。

2 □の中に数字を書きましょう。



—
答え

1 ① 483 ② 808 ③ 630 ④ 50

⑤ 990

2 ① 300 , 315

② 790 , 820 , 830

③ 390 , 520 , 680