

100より大きい数 6

No. 1

年 組 名前 _____

1 □にあてはまる 数を書きましょう。

① 100を 6 こ, 10を 5 こ, 1を 4 こ あわせた 数は,
□です。

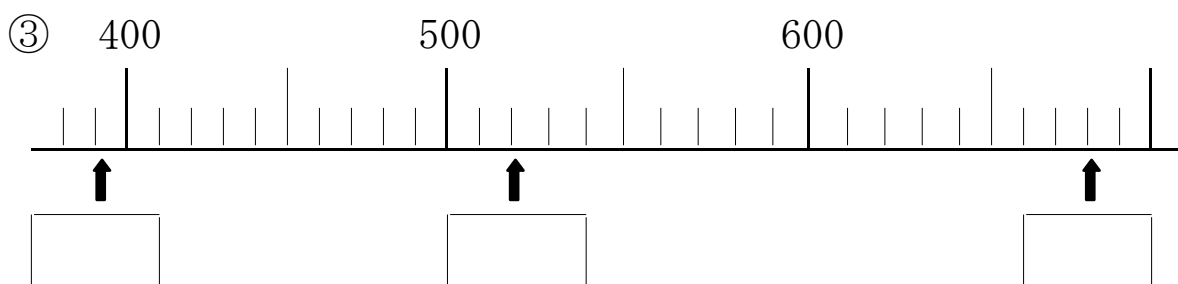
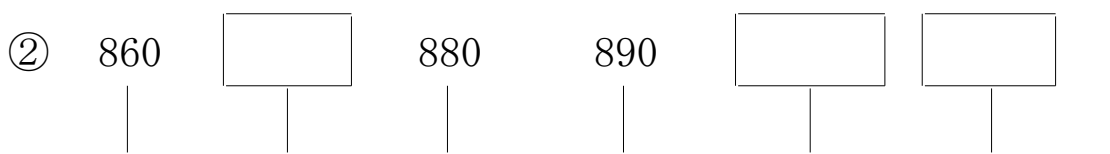
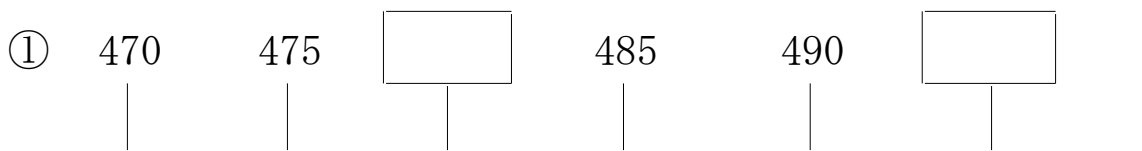
② 100を 9 こ, 1を 2 こ あわせた 数は, □です。

③ 10を 77 こ あつめた 数は, □です。

④ 900 は 1000 より □小さい数です。

⑤ 1000 より 1 小さい 数は, □です。

2 □の中に数字を書きましょう。



—
答え

1 ① 654 ② 902 ③ 770 ④ 100

⑤ 999

2 ① 480 , 495

② 870 , 900 , 910

③ 390 , 520 , 680