

形づくり 1

月 日

名前

点

1



をつかって、つぎの形を作りました。



を何まい使っていますか。

①




まい

②



まい

③



まい

④




まい

⑤



まい

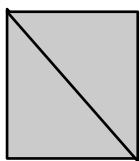
⑥



まい

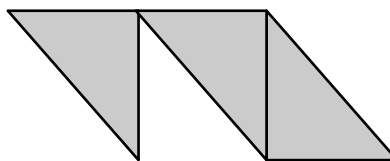
答え

①



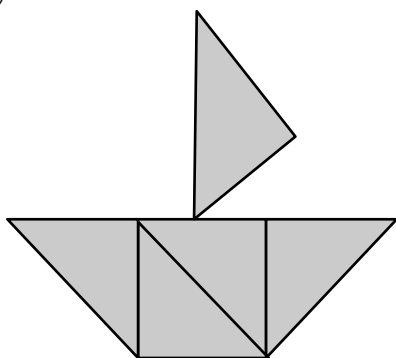
2まい

②



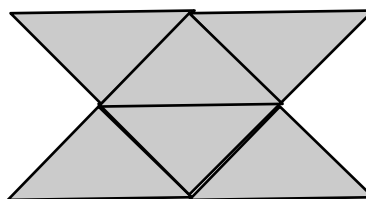
4まい

③



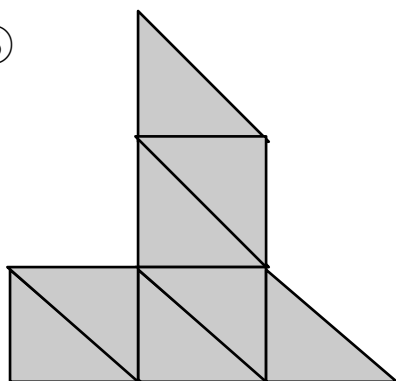
5まい

④



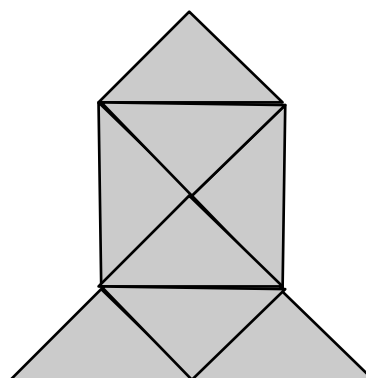
6まい

⑤



8まい

⑥



8まい