

あと いくつ


2

がつ

にち

なまえ

① あと いくつで 5 になりますか。




こたえ

あと

こ

② あと いくつで 5 になりますか。



こたえ

あと

こ

③ あと いくつで 5 になりますか。



こたえ

あと

こ

④ あと いくつで 6 になりますか。

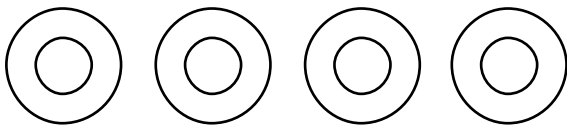


こたえ

あと

こ

⑤ あと いくつで 6 になりますか。



こたえ

あと

こ