


あと いくつ

1

がつ にち

なまえ

① あと いくつで 3 处になりますか。




こたえ

あと

处

② あと いくつで 3 处になりますか。



こたえ

あと

处

③ あと いくつで 4 处になりますか。



こたえ

あと

处

④ あと いくつで 4 处になりますか。

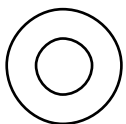


こたえ

あと

处

⑤ あと いくつで 4 处になりますか。



こたえ

あと

处