

重さ3

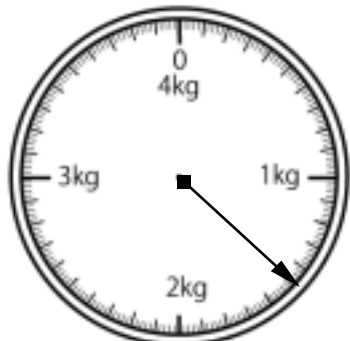
NO 1

月 日

名前

点

1 下の絵は、はかりを表したものです。



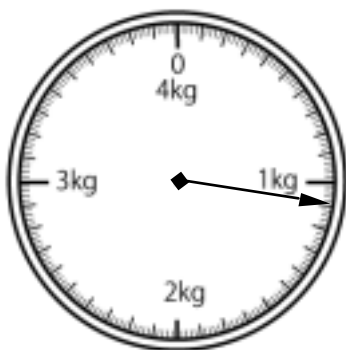
① 何kgまではかれますか。

② いちばん小さい1目もりは何gですか。

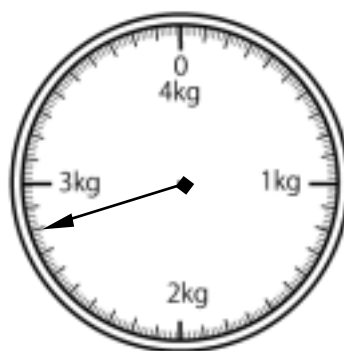
③ はりのさしている重さは何kg何gですか。

2 はりのさしている重さは、何kg何gですか。また、それは何gですか。

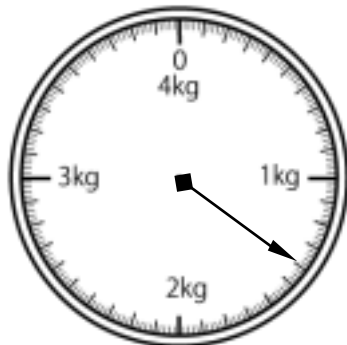
①



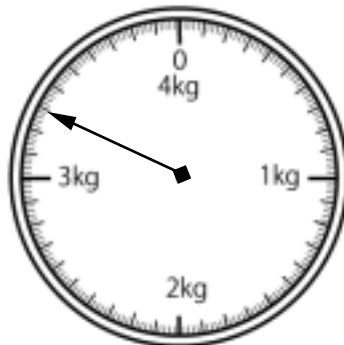
②



③



④



答え

1

① 4 kg ② 10 g ③ 1 kg 500 g

2

① 1100 g ② 2800 g
1 kg 100 g 2 kg 800 g

③ 1400 g ④ 3300 g
1 kg 400 g 3 kg 300 g