

重さ2


NO 3

月 日

名前

点

1 下の絵は、はかりを表したものです。



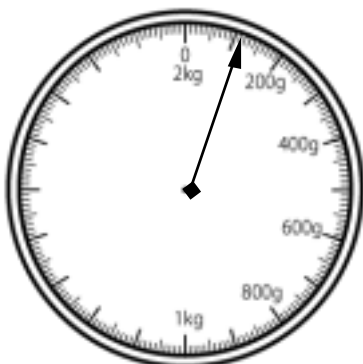
① 何kgまではかれますか。

② いちばん小さい1目もりは何gですか。

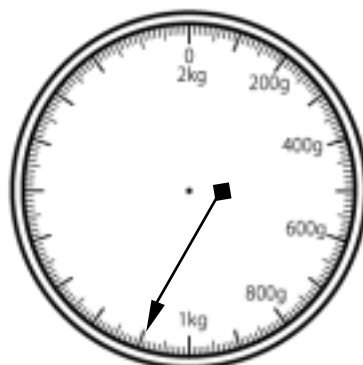
③ はりのさしている重さは何gですか。

2 はりのさしている重さを□に書きなさい。


①



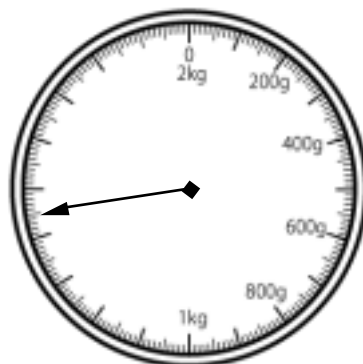
②



③



④



答え

1 ① 2 kg ② 10 g ③ 350 g

2 ① 110 g ② 1100 g
(1 kg 100 g)
③ 900 g ④ 1450 g
(1 kg 450 g)