

重さ2

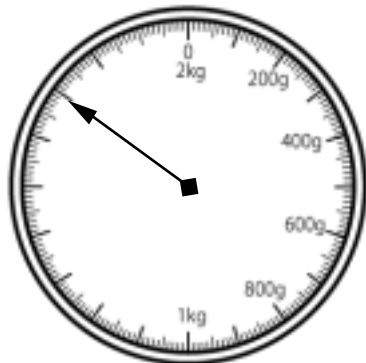
NO 2

月 日

名前

点

1 下の絵は、はかりを表したものです。



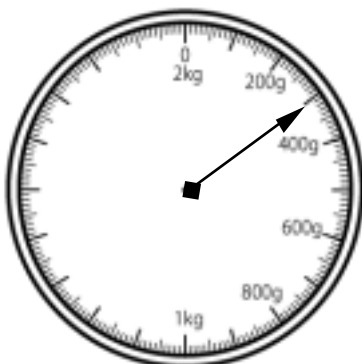
① 何kgまではかれますか。

② いちばん小さい1目もりは何gですか。

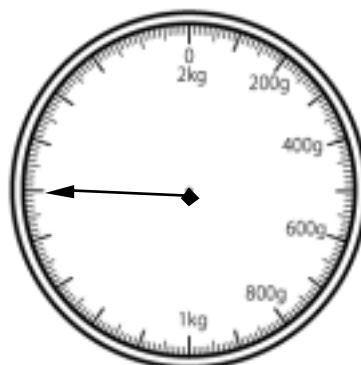
③ はりのさしている重さは何gですか。

2 はりのさしている重さを□に書きなさい。

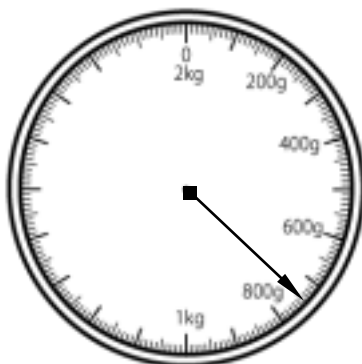
①




②



③



④



答え

1 ① 2 kg ② 10 g ③ 1600 g
1 kg 600 g

2 ① 250 g ② 1500 g
(1 kg 500 g)
③ 750 g ④ 1300 g
(1 kg 300 g)