

# 重さ 2

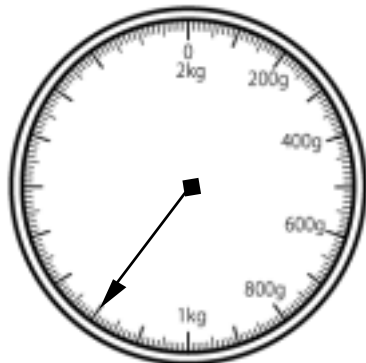
NO 1

月 日

名前

点

1 下の絵は、はかりを表したものです。



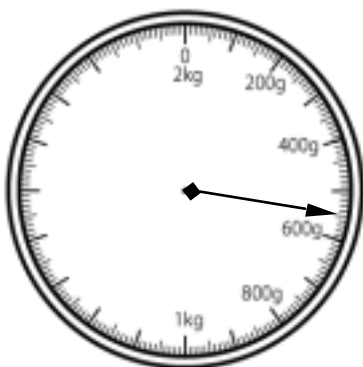
① 何kgまではかれますか。

② いちばん小さい1目もりは何gですか。

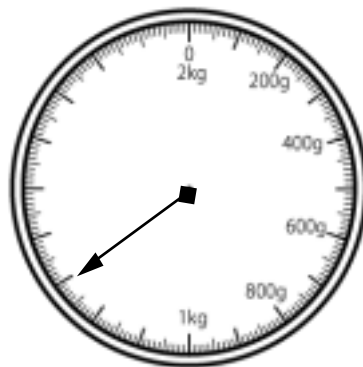
③ はりのさしている重さは何gですか。  
また、それは何kgですか。

2 はりのさしている重さを□に書きなさい。

①



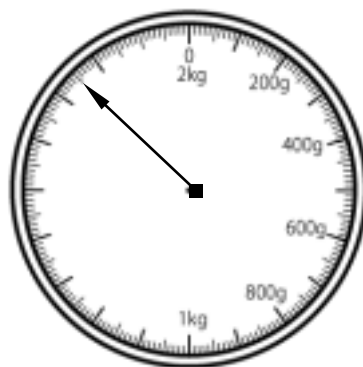
②



③



④



答え

1 ① 2 kg      ② 10 g      ③ 1200 g  
1 kg 200 g

2 ① 550 g      ② 1300 g  
( 1 kg 300 g )  
③ 50 g      ④ 1750 g  
( 1 kg 750 g )