

重さ 1


NO 3

月 日

名前

点

1 下の絵は、はかりを表したものです。



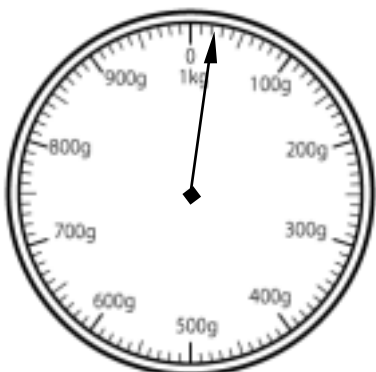
① 何kgまではかれますか。

② いちばん小さい1目もりは何gですか。

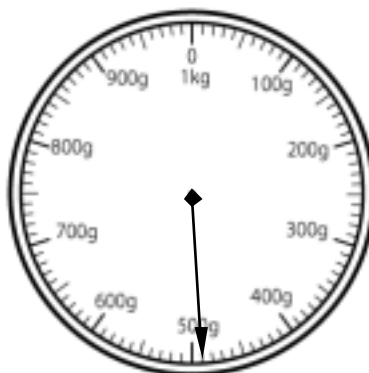
③ はりのさしている重さは何gですか。

2 はりのさしている重さを□に書きなさい。


①



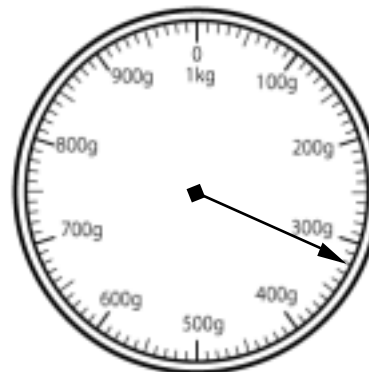
②



③



④



答え

1 ① 1 kg ② 10 g ③ 210 g

2 ① 20 g ② 490 g
③ 880 g ④ 320 g