

# 重さ 1


NO 2

月 日

名前

点

1 下の絵は、はかりを表したものです。




① 何kgまではかれますか。

② いちばん小さい1目もりは何gですか。

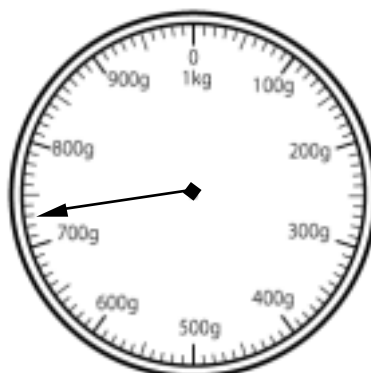
③ はりのさしている重さは何gですか。

2 はりのさしている重さを□に書きなさい。

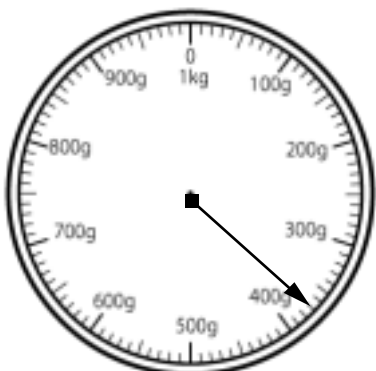
①




②



③



④



## 答え

1 ① 1 kg      ② 10 g      ③ 560 g

2 ① 160 g      ② 730 g

③ 370 g      ④ 90 g