

たし算とひき算2

NO 3

月 日

名前

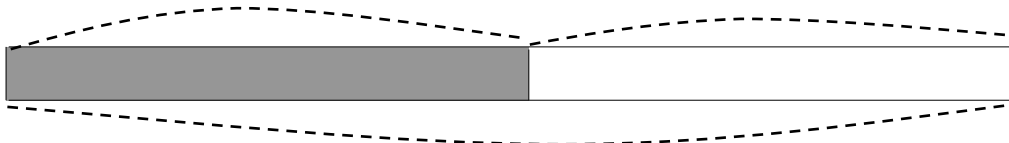
点

1 りんごが 何こか あります。 13 こ 買って きたので、
 ぜんぶで 29 こに なりました。りんごは、はじめ 何こ
 ありましたか。

① □のなかに数を書きましょう。

はじめ () こ

買った □ こ



ぜんぶ □ こ

② しきを書いて答えをもとめましょう。

しき

ひっ算

答え

2 子どもが 33 人 あそんで いました。そこへ、何人か
 きたので、ぜんぶで 70 人に なりました。
 あとから きた 子どもは、何人ですか。

☒

しき

ひっ算

答え

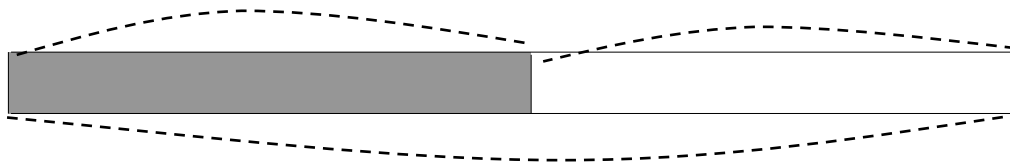
答え

1

①

はじめ () こ

買った 13 こ



ぜんぶ 29 こ

②

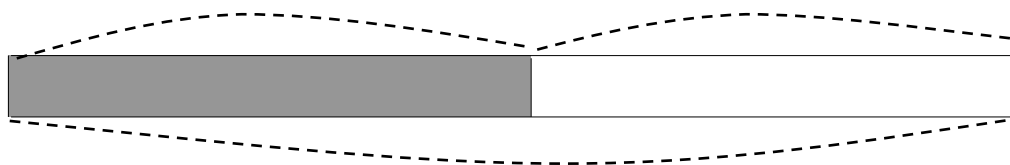
$$29 - 13 = 16$$

答え 16 こ

2

はじめ 33 人

きた () 人



ぜんぶ 70 人

$$70 - 33 = 37$$

答え 37 人