

たし算とひき算2

NO 2

月 日

名前

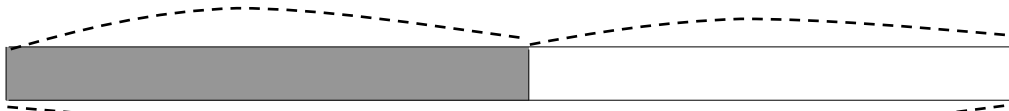
点

1 りんごが 何こか あります。 11 こ 買って きたので、
 ぜんぶで 25 こに なりました。りんごは、はじめ 何こ
 ありましたか。

① □のなかに数を書きましょう。

はじめ () こ

買った こ



ぜんぶ こ

② しきを書いて答えをもとめましょう。

しき

ひっ算

答え

2 子どもが 32 人 あそんで いました。そこへ、何人か
 きたので、ぜんぶで 68 人に なりました。
 あとから きた 子どもは、何人ですか。

☒

しき

ひっ算

答え

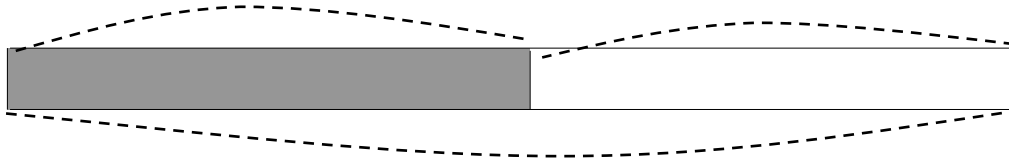
答え

1

①

はじめ () こ

買った 11 こ



ぜんぶ 25 こ

②

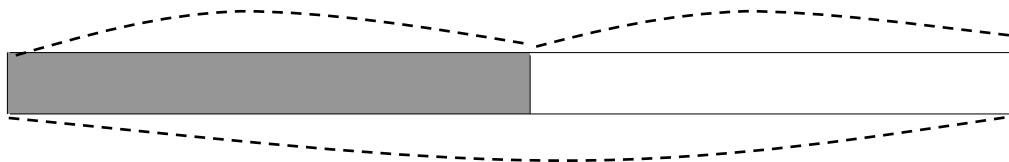
$$25 - 11 = 14$$

答え 14 こ

2

はじめ 32 人

きた () 人



ぜんぶ 68 人

$$68 - 32 = 36$$

答え 36 人