

たし算とひき算 1

NO 3

月 日

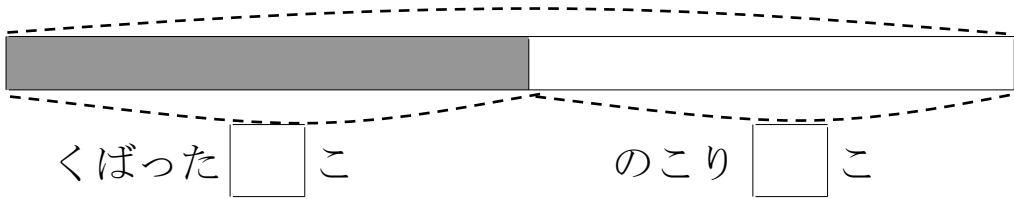
名前

点

1 あめが 何こか あります。 16 こ くばったので、
 のこりが 19 こに なりました。あめは、はじめ 何こ
 ありましたか。

① □のなかに数を書きましょう。

はじめ () こ



② しきを書いて答えをもとめましょう。

しき

ひっ算

答え

2 色紙が 何まいか あります。 13 まい つかったので、
 のこりが 13 まいになりました。色紙は、はじめ 何まい
 ありましたか。

☒

しき

ひっ算

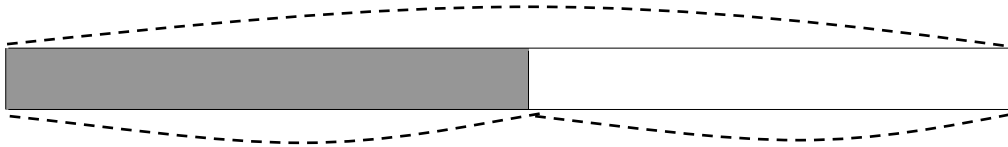
答え

答え

1

①

はじめ () こ



くばった 16 こ

のこり 19 こ

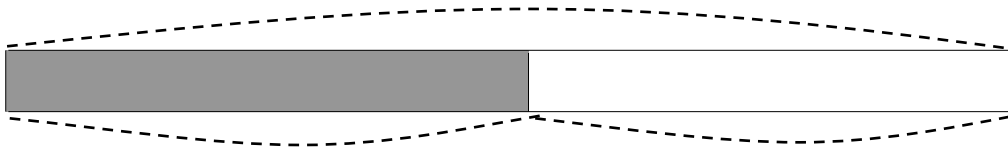
②

$16 + 19 = 35$

答え 35 こ

2

はじめ () まい



つかった 13 まい

のこり 13 まい

$13 + 13 = 26$

答え 26 まい