

たし算とひき算 1

NO 1

月 日

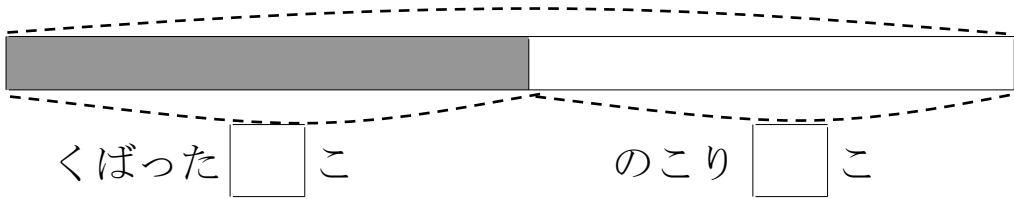
名前

点

1 あめが 何こか あります。 12 こ くばったので、
 のこりが 15 こに なりました。あめは、はじめ 何こ
 ありましたか。

① □のなかに数を書きましょう。

はじめ () こ



② しきを書いて答えをもとめましょう。

しき

ひっ算

答え

2 色紙が 何まいか あります。 13 まい つかったので、
 のこりが 18 まいになりました。色紙は、はじめ 何まい
 ありましたか。

☒

しき

ひっ算

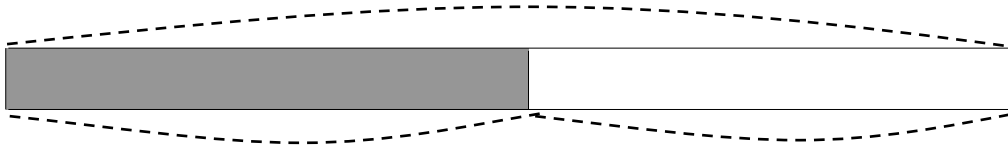
答え

答え

1

①

はじめ () こ



くばった 12 こ

のこり 12 こ

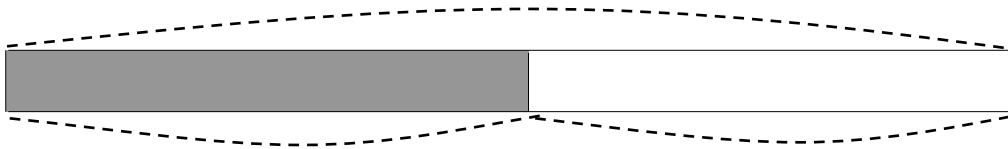
②

$12 + 15 = 27$

答え 27 こ

2

はじめ () まい



つかった 13 まい

のこり 18 まい

$13 + 18 = 31$

答え 31 まい